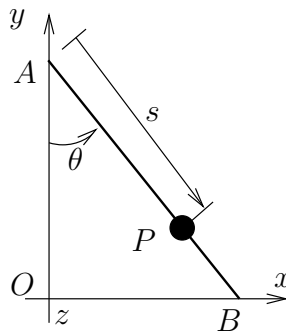


MECÁNICA

Práctica nº 7

curso 2002-2003

31. Una varilla AB de masa m y longitud total l se mueve en un plano vertical de forma que el extremo A desliza sobre la vertical y el extremo B desliza sobre una recta horizontal. Asimismo, una partícula P de masa m puede deslizar libremente sobre la varilla sin abandonarla (ver figura adjunta). No existe rozamiento entre ninguna de las partes móviles. En el instante inicial el sistema parte del reposo con $\theta = 30^\circ$ y $s = 0$.



Se pide, en función de s , θ y sus derivadas:

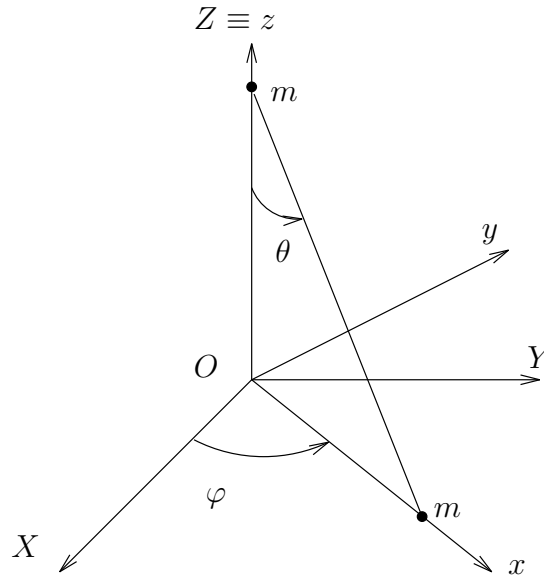
1. Expresión de la velocidad absoluta de la partícula P .
2. Expresión del momento cinético del conjunto varilla+partícula en O .
3. Ecuación del momento cinético en O .
4. Ecuaciones de la cantidad de movimiento de la varilla AB
5. Ecuaciones de la cantidad de movimiento de la partícula P
6. Expresar las ecuaciones del movimiento como dos ecuaciones diferenciales en las que intervengan exclusivamente s , θ y sus derivadas.

Nota: Expresar todas las magnitudes pedidas en el triedro fijo ($Oxyz$) de la figura.
(Problema Puntuable, Curso 97/98)

32. El sistema de la figura está constituido por dos masas puntuales iguales m , de las cuales una recorre el eje Oz y la otra se mantiene sobre el plano horizontal, conectadas por la barra AB sin masa, de longitud 1. No existen rozamientos.

En el instante inicial el sistema está en reposo, y la barra AB forma un ángulo de 30° con el plano horizontal. Bruscamente le comunicamos a AB una velocidad ω_0 alrededor del eje vertical y, a partir de este momento, el sistema comienza a moverse libremente, sujeto a sus enlaces.

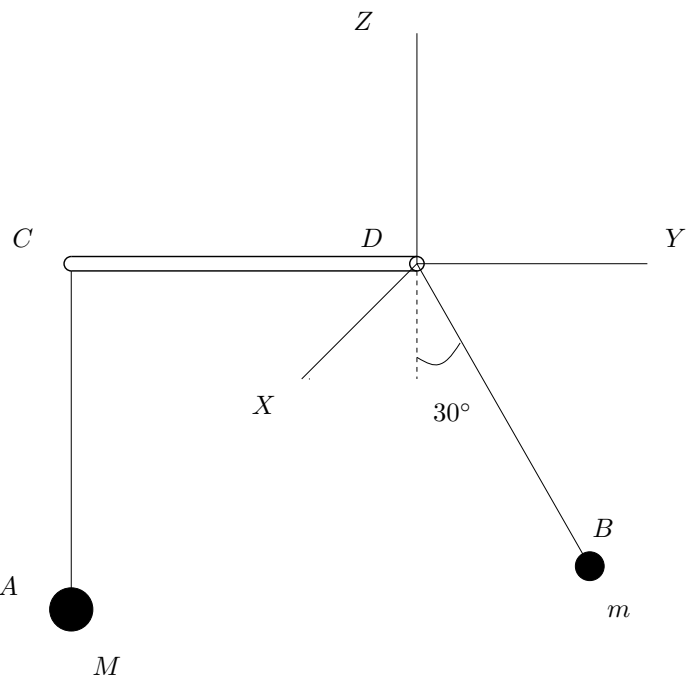
Calcular cuál debe ser el valor de ω_0 para que la velocidad de B al llegar al plano horizontal sea $\sqrt{2gl}$.



(Ejercicio 33, Curso 97/98)

33. Un hilo AB (flexible, inextensible y de masa despreciable) de longitud $3b$ pasa a través de un tubo CD (fijo, horizontal y liso) de longitud b . En los extremos del hilo están sujetas sendas partículas, de masa M la que se encuentra en A , y de masa m la que se encuentra en B . En la situación inicial se cumple:

- El hilo sobresale por igual por ambos extremos del tubo (con lo que $AC = CD = DB = b$)
- Todo el hilo se encuentra situado en un plano vertical DYZ , colgando verticalmente el tramo AC , mientras que el tramo DB está desviado 30° de la vertical descendente



- La partícula M está en reposo, mientras que la partícula m tiene velocidad horizontal $v_0 > 0$, dirigida según el eje X

Se pide:

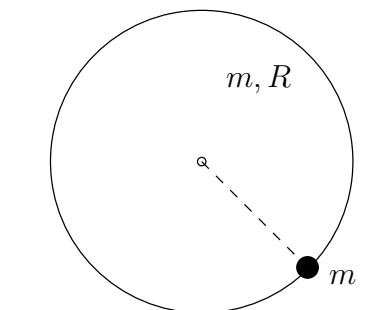
1. Expresar las ecuaciones diferenciales necesarias para definir completamente el movimiento, mediante los teoremas generales de Newton-Euler.
2. Integrales primeras del movimiento.
3. Demostrar que no es posible que m alcance el extremo D .
4. Calcular el valor de v_0 que hace que la masa M permanezca en reposo.

(Ejercicio 4, Examen Parcial 1998)

34. Un aro de masa m y radio R rueda sin deslizar sobre una recta horizontal, manteniéndose vertical en todo instante. Sobre él se mueve sin rozamiento una partícula de masa m con ligadura bilateral que no estorba la rodadura. Aplicando los teoremas de Newton-Euler, se pide:

1. Calcular la reacción que la recta ejerce sobre el aro y la reacción que el aro ejerce sobre la partícula, en función de los grados de libertad y sus derivadas.
2. Obtener las ecuaciones diferenciales del movimiento del sistema en función únicamente de los grados de libertad y sus derivadas, sin que en ellas aparezcan las reacciones.

(Examen final y parcial, Enero 2000)



35. Se dan dos rectas fijas ortogonales r_1 y r_2 que se cruzan en el espacio a una distancia b , inclinadas cada una 45° respecto del plano horizontal.

Dos partículas de masas m_1 y m_2 están obligadas a moverse respectivamente sobre dichas rectas y se atraen con una fuerza proporcional (de constante k) a la distancia que las separa. Inicialmente las partículas se encuentran a la distancia mínima con velocidades nulas. Se pide:

1. Ecuación horaria de m_1 .
2. Valores máximo y mínimo de la reacción de r_1 .
3. Trayectoria del centro de masa y velocidad máxima del mismo.
4. Relación que deben satisfacer los valores de las masas para que transcurrido un tiempo T (cuyo valor se calculará) las partículas vuelvan a estar situadas a la distancia mínima. ¿Qué velocidades y aceleraciones tendrán en ese instante?

(Ejercicio 34, Curso 95/96)